

Тест тапшырмалардын жалпы саны – 15

Количество тестовых заданий – 15

1-бөлүм / Тест тапшырмалардын саны-13

1 Часть / 13 тестовых заданий

Бул бөлүм 4 жооптон 1 гана туура жоопту белгилей турган тест тапшырмаларынан турат. Ар бир тапшырмага жооптун 4 варианты берилет. Алардын ичинен бир гана жооп туура. Сиз тандаган жоопту тегеректеп белгилеңиз.

Эта часть теста содержит задания с выбором ответа.

К каждому вопросу даётся 4 варианта ответов, из которых только один правильный. Обведите правильный ответ кружочком.

№ 1. Согуштан кийинки жылдарда көркөм чыгармалары үчүн кыргыз жазуучуларынын арасында биринчи болуп СССР Мамлекеттик сыйлыгын алган, ал эми 1997-жылы Кыргыз Республикасынын Баатыры наамын алган Кыргыздын көрүнүктүү жазуучусун белгиле.

Укажите видного писателя Кыргызстана, который в послевоенное время за свои художественные произведения первым из кыргызских писателей стал лауреатом Государственной премии СССР, а в 1997 году стал Героем Кыргызской Республики.

- а) С.Сасыкбаев б) Т.Сыдыкбеков в) Ч.Айтматов г) Т.Касымбеков

№ 2. 1950-60-жж. таланттуу советтик кыргыз балериасын белгиле.

Укажите талантливую кыргызскую советскую балерину 1950-60 годов.

- а) С. Айтбаева б) Б. Бекбаева в) Г. Артыкова г) Б. Бейшеналиева

№ 3. Кыргызстандын белгилүү сүрөтчүсү жана киноактерун белгиле.

Укажите известного киноактера и художника Кыргызстана.

- а) А. Боталиев б) М. Рыскулов в) С. Чокморов г) С. Далбаев

№ 4. 1963- жылы Мамлекеттик Ленин сыйлыгы ... үчүн берилген.

- а) Т.Садыковго «Революциянын каармандарына» эстелиги
 б) Ч.Айтматовго, “Тоолор жана талаалар повести” жыйнагы
 в) Т.Сыдыкбековго, “Кең суу” китеби
 г) Т.Океевге, “Уркуя” кинотасмасы

В 1963 г. Государственная Ленинская премия была присуждена:

- а) Т.Садыкову за памятник «Борцам революции»
 б) Ч. Айтматову за сборник «Повести гор и степей»
 в) Т. Сыдыкбекову за книгу «Кен Суу»
 г) Т. Окееву за кинокартину «Уркуя»

№ 5 1990-ж. Кыргызстандын тарыхында кандай маанилүү окуя болгон?

- а) Кыргызстандагы элдердин биринчи курултайы
 б) Кыргыздардын Бүткүл дүйнөлүк биринчи курултайы
 в) Кыргыз Республикасы БУУга мүчө болду
 г) Кыргыз Республикасынын президентин шайлоо

В 1990 г. какое важное историческое событие произошло в Кыргызстане?

- а) Первый курултай народов Кыргызстана
 б) Первый Всемирный курултай кыргызов
 в) Кыргызская Республика принята в члены ООН
 г) Состоялись выборы президента Кыргызской Республики

№ 6. Көз карандысыз Кыргызстандын биринчи премьер-министри.

Первый премьер-министр суверенного Кыргызстана

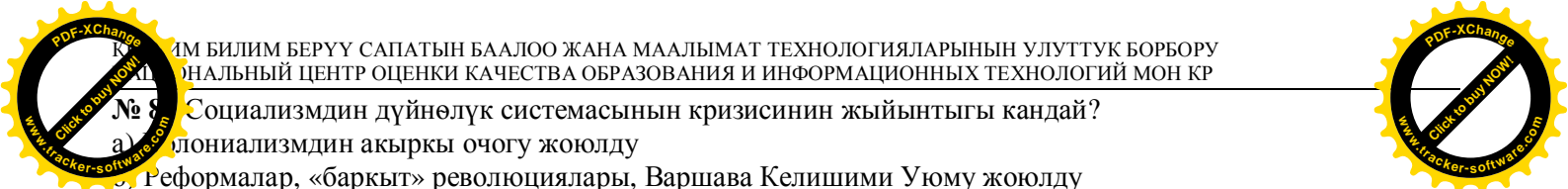
- а) А.Жумагулов б) Н.Исанов в) К.Жумалиев г) Н.Танаев

№ 7. XX к. экинчи жарымында Европадагы социалисттик өлкөлөрдүн оппозициялык күчтөрү ураанынын алдында чыгышкан.

- а) ”ленинизмге кайтып келүү” б) ”социализмди жаңылоо”
 в) ”батыштык демократияны кайра калыптандыруу” г) ”базар экономикасын киргизүү”

Во второй половине XX в. оппозиционные силы социалистических стран Европы выступали под лозунгом:

- а) ”возвращение к ленинизму” б) ”обновление социализма”
 в) ”воспроизводство западных демократий” г) ”введение рыночной экономики”



№ 8. Социализмдин дүйнөлүк системасынын кризисинин жыйынтыгы кандай?

- а) Колониализмдин акыркы очогу жоюлду
 - б) Реформалар, «баркыт» революциялары, Варшава Келишими Уюму жоюлду
 - в) Өнүгүп келе жаткан жана өнүккөн өлкөлөрдүн ортосундагы карама-каршылык курчуду
 - г) Азыркы учурдагы глобалдуу проблемалар күчөдү
- Каковы результаты кризиса мировой системы социализма?
- а) Ликвидация последних очагов колониализма
 - б) Реформы, «бархатные » революции, ликвидация Организации Варшавского Договора
 - в) Обострение противоречий между развитыми и развивающимися странами
 - г) Усложнение глобальных проблем современности

№ 9. 1960-жыл «... жылы» деп жарыяланган

- а) «Африканын жылы» б) «Индиянын жылы» в) «Америка жылы» г) «Япония жылы»
- 1960 год был объявлен ...
- а) «год Африки» б) «год Индии» в) «год Америки» г) «год Японии»

№10. "Принциптеримден баш тарта албайм" деген макаланын автору өз ишениминде социализмдин кайсы моделин коргогон?

- а) Социализмдин советтик үлгүдөгү тоталитардык моделин
 - б) Социализмдин шведдик социал-демократиялык варианттагы моделин
 - в) Социализмдин "югославиялык өзүн-өзү башкаруу" моделин
 - г) "Адамкерчиликтүү" социализмдин чехословакиялык моделин
- Какую модель социализма защищал автор статьи "Не могу поступиться принципами" согласно своим убеждениям?
- а) Тоталитарную модель социализма советского образца
 - б) Социал-демократическую модель социализма шведского варианта
 - в) Югославскую самоуправленческую модель социализма
 - г) Чехословацкую модель "социализма с человеческим лицом"

№ 11. Эмне үчүн КПСС Югославияны катуу сындаган?

- а) Советтикин өздөштүрбөй социализмдин өз алдынча моделин иштеп чыккандыктан
- б) Социалисттик идеядан толугу менен кол үзгөндүктөн
- в) Варшава келишими уюмуна кирбей койгондуктан
- г) НАТОго киргендиги үчүн

Почему КПСС жестко критиковала Югославию?

- а) Выработала самостоятельную модель социализма, а не воспроизвела советскую
- б) Полностью порвала с социалистической идеей
- в) Не вступила в организацию Варшавского договора
- г) Вступила в НАТО

№ 12. 1960-жылы Бельгиянын колониясы Конго көз карандысыздыкка ээ болду. Мамлекетти жаш лидер ... жетектеп калды.

- Бельгийское Конго в 1960 году получило независимость, новую страну возглавил молодой лидер ...
- а) Патрис Лумумба б) Жозеф Мобуту в) Голда Меир г) Дж.Неру


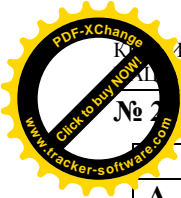
№ 13. 1990-жылы эгемендүүлүккө жетишкен Африкадагы чоң мамлекет..

- Крупная страна в Африке, которая обрела независимость в 1990 году.
- а) Намибия б) Алжир в) Ангола г) Мозамбик

2-бөлүм / Тест тапшырмалардын саны-2
2 Часть / 2 тестовых задания

Бул бөлүм дал келүүлөрдү белгилей турган тапшырмалардан турат. Сол жакта берилген ар бир элементке оң жакта берилген элементтердин ичинен дал келгенин табыңыз (б.а. дал келген эки элементти туташтырыңыз). Бир тамганын тушуна бир эле сан жазылат.

Эта часть теста содержит задания на установление соответствия. Рядом с буквой элемента из левой колонки впишите цифру соответствующего элемента из правой колонки (т.е. соедините два соответствующих элемента в пару). Каждому элементу слева соответствует только один элемент справа. Один элемент из правой колонки лишний.



Дал келтиргиле:

	автор		эмгектери
А	Т. Садыков	1	«Эски кыштак»
Б	С. Чокморов	2	«Революциянын каармандары»
В	П. Чуйков	3	«Кызыл алма»
Г	Г. Айтиев	4	«Кыргызстандын кызы»
		5	«Тоголок Молдо»

Установите соответствие:

	автор		труды
А	Т. Садыков	1	«Старый кишлак»
Б	С. Чокморов	2	«Герои революции»
В	П. Чуйков	3	«Красное яблоко»
Г	Г. Айтиев	4	«Дочь Кыргызстана»
		5	«Тоголок Молдо»

Жообу / Ответ:

А	
Б	
В	
Г	

№ 2.2. Тарыхый окуяларды болгон мезгили менен дал келтиргиле:

	Окуялар		Болуп өткөн мезгили
А	Кыргызстандагы элдердин биринчи курултайы	1	1992-ж. 2-мартта
Б	Кыргыздардын Бүткүл дүйнөлүк биринчи курултайы	2	1991-ж. 31-августта
В	Кыргыз Республикасынын көз карандысыздыгынын Декларациясы	3	1992-ж. 25-30-августта
Г	Кыргыз Республикасы БУУга мүчө болду	4	1994-ж. 21-23-январда
		5	1991-ж. 10-майда

Установите соответствие между историческим событием и временным периодом:

	События		Дата
А	Первый курултай народов Кыргызстана	1	2 марта 1992 г.
Б	Первый Всемирный курултай кыргызов	2	31 августа 1991 г.
В	Декларация о государственной независимости КР	3	25-30 августа 1992 г.
Г	Кыргызская Республика принята в члены ООН	4	21-23 января 1994 г.
		5	10 мая 1991 г.



Жообу / Ответ:

А	
Б	
В	
Г	

3-4-бөлүмдөрдө тест тапшырмалар жок.

Часть 3,4 - нет тестовых заданий.

ТЕСТТИН АЯГЫ/КОНЕЦ ТЕСТА



Баалоо критерийи:

1. №1-№13 – тапшырмалардын туура жообуна, ар бири үчүн – 1 баллдан берилет;
2. №2.1, № 2.2. – тапшырмалардын:
 - ✓ төрт туура дал келген жообуна 3 балл;
 - ✓ үч туура дал келген жообуна 2 балл;
 - ✓ эки туура дал келген жообуна 1 балл;
 - ✓ башка жоопторго 0 балл берилет.

Жалпы – 19 балл.

3. Таблицада баллдар “бааларга” айландырылган.

Баллдар	Баасы
0-6	2
7-11	3
12-16	4
17-19	5

Критерий оценивания:

- 1.С №1 по №13 – правильный ответ каждого задания оценивается в 1 балл;
- 2.№2.1 и №2.2 – оценивается:
 - ✓ 3 балла - установлено правильное соответствие всех элементов;
 - ✓ 2 балла – установлено правильное соответствие трех элементов;
 - ✓ 1 балл - установлено правильное соответствие двух элементов;
 - ✓ 0 балл – все другие ответы.

Итого: 19 баллов

3. В таблице предоставлен перевод баллов в «отметки».

Баллы	Отметки
0-6	2
7-11	3
12-16	4
17-19	5