

Тест тапшырмалардын жалпы саны – 10

Количество тестовых заданий – 10

1-бөлүм / Тест тапшырмалардын саны-8

1 Часть / 8 тестовых заданий

*Бул бөлүм 4 жооптон 1 гана туура жоопту белгилей турган тест тапшырмаларынан турат. Ар бир тапшырмага жооптон 4 варианты берилет. Алардын ичинен бир гана жооп туура. Сиз тандаган жоопту тегеректеп белгилеңиз.*

*Эта часть теста содержит задания с выбором ответа.*

*К каждому вопросу даётся 4 варианта ответов, из которых только один правильный. Обведите правильный ответ кружочком.*

**№ 1.** XVIII-кылымдын экинчи жарымында кыргыздар канча группага бөлүнгөн?

Во второй половине XVIII века кыргызы делились на ... группы

- а) 2                      б) 4                      в) 3                      г) 5

**№ 2.** Кыргыздардын батыш группасына кирген уруу

- а) ичкиликтер              б) чонбагыштар              в) наймандар              г) кыпчактар

В западную группу кыргызов входили

- а) ичкилики              б) чонбагыши              в) найманы              г) кипчаки

**№ 3.** Орто Азия жана Чыгыш Түкстандын Жунгар хандыгына каршы күрөштүн жетекчилери болгон ...

- а) Жахан жана Юсуп хожа              б) Даниял жана Низамидин хожа  
в) Абдаллах жана Исхак хожа              г) Юсуп жана Мухаммед Эмин хожа

Руководители борьбы против Джунгарского ханства народов Средней Азии и Восточного Туркестана ...

- а) Джахан и Юсуф ходжа              б) Даниял и Низамиддин ходжа  
в) Абдаллах и Исхак ходжа              г) Юсуф и Мухаммед Эмин ходжа

**№ 4.** Ферганалык кыргыздардын Афган Памирине көчүүнүн акыркы этабы ...

- а) XVII-кылымдын жарымынан - XIX-кылымдын башында  
б) XVIII-кылымдын акыры - XIX-кылымдын башында  
в) XVIII-кылымдын жарымынан - XIX-кылымдын башында  
г) XVII-кылымдын акыры - XVIII-кылымдын башында

Последний этап переселения кыргызов из Ферганы на Афганский Памир приходится...

- а) на середину XVII - начало XIX века              б) на конец XVIII - начало XIX века  
в) на середину XVIII - начало XIX века              г) на конец XVII - начало XVIII века

**№ 5.** Кайсы жылы Васко-да Гама Индияга түшкөн?

В каком году Васко-да Гама высадился в Индию:

- а) 1498-ж/г.              б) 1492-ж/г.              в) 1519-ж/г.              г) 1496-ж/г.

**№6.** Орто кылымда интеллигенция деп ... атай башташкан.

- а) көп айлык алган цехтик усталарды              б) дубаны жакшы окуган дин кызматкерлерин  
в) окуп жана жаза билген рыцарларды  
г) акыл эмгегинин адамдарын: илимпоздорду, адабият, искусство ишмерлерин, мугалимдерди

В эпоху средневековья интеллигенцией стали называть .....

- а) высокооплачиваемых цеховых мастеров              б) священников, хорошо читавших молитвы  
в) рыцарей, умевших читать и писать  
г) людей умственного труда: ученых, деятелей литературы, искусства, учителей

**№7.** Алгачкы колонияларды ээлеп алган биринчи өлкөлөр - булар:

- а) Португалия Америкада, Испания Африкада              б) Франция Америкада, Англия Африкада  
в) Италия Америкада, Германия Африкада              г) Португалия Африкада, Испания Америкада

Первые страны, захватившие колонии – это ...



- а) Португалия в Америке, Испания в Африке              б) Франция в Америке, Англия в Африке  
в) Италия в Америке, Германия в Африке              г) Португалия в Африке, Испания в Америке

**№ 8.** Коперник Жер жөнүндө кандай жыйынтыкка келген?

- а) Жер - ааламдын ортосу              б) Жер кыймылсыз  
в) Жер - Айдын спутниги              г) Жер өзүнүн огунда жана Күндүн тегерегинде айланат

К какому выводу о Земле пришел Н. Коперник?

- а) Земля - середина Вселенной              б) Земля неподвижна  
в) Земля – спутник Луны              г) Земля вращается вокруг Солнца и своей оси



**2-бөлүм / Тест тапшырмалардын саны-2**  
**2 Часть / 2 тестовых задания**

*Бул бөлүм дал келүүлөрдү белгилей турган тапшырмалардан турат. Сол жакта берилген ар бир элементке оң жакта берилген элементтердин ичинен дал келгенин табыңыз (б.а. дал келген эки элементти туташтырыңыз). Бир тамганын тушуна бир эле сан жазылат.*

*Эта часть теста содержит задания на установление соответствия. Рядом с буквой элемента из левой колонки впишите цифру соответствующего элемента из правой колонки (т.е. соедините два соответствующих элемента в пару). Каждому элементу слева соответствует только один элемент справа. Один элемент из правой колонки лишний.*

**№ 2.1. Дал келтиргиле:**

<b>А</b>	Бартоломеу Диаш	<b>1</b>	Индия
<b>Б</b>	Васко да Гама	<b>2</b>	Добрая (Боорукер) Надежда тумшугу
<b>В</b>	Христофор Колумб	<b>3</b>	Магеллан кысыгы
<b>Г</b>	Америго Веспуччи	<b>4</b>	Куба жана Гаити
		<b>5</b>	Америка

**Соотнесите:**

<b>А</b>	Бартоломеу Диаш	<b>1</b>	Индия
<b>Б</b>	Васко да Гама	<b>2</b>	мыс Доброй Надежды
<b>В</b>	Христофор Колумб	<b>3</b>	пролив Магеллана
<b>Г</b>	Америго Веспуччи	<b>4</b>	Куба и Гаити
		<b>5</b>	Америка

**Жообу / Ответ:**

<b>А</b>	
<b>Б</b>	
<b>В</b>	
<b>Г</b>	

**№ 2.2. Дал келтиргиле:**


<b>А</b>	Эрнандо Кортес	<b>1</b>	Африканын кара түстөгү жашоочусу, аны туткунга алып сатышкан
<b>Б</b>	Франсиско Писарро	<b>2</b>	аларды “жырткыч айбандардай жансыз жандыктар” дешкен
<b>В</b>	«тирүү товар»	<b>3</b>	Ацтектердин өкүмдарын камоого алып анын атынан мамлекетти башкарган
<b>Г</b>	колония	<b>4</b>	экономикалык жана саясий жактан көз каранды мамлекет
		<b>5</b>	Инктердин башкаруучусун эркиндикке чыгаруу үчүн чоң бөлмөнү алтынга толтурууну талап кылган

**Соотнесите:**

<b>А</b>	Эрнандо Кортес	<b>1</b>	чернокожий житель Африки, его брали в плен и продавали
<b>Б</b>	Франсиско Писарро	<b>2</b>	их считали “бездушные существа вроде диких зверей”
<b>В</b>	«живой товар»	<b>3</b>	захватил правителя ацтеков и управлял от его имени страной
<b>Г</b>	Колония	<b>4</b>	экономически и политически зависимое государство
		<b>5</b>	за освобождение правителя инков потребовал наполнить золотом большую комнату

**Жообу / Ответ:**

<b>А</b>	
<b>Б</b>	
<b>В</b>	
<b>Г</b>	



### Баалоо критерийи:

1. №1-№8 – тапшырмалардын туура жообуна, ар бири үчүн – 1 баллдан берилет;
2. №2.1, № 2.2. – тапшырмалардын:
  - ✓ төрт туура дал келген жообуна 3 балл;
  - ✓ үч туура дал келген жообуна 2 балл;
  - ✓ эки туура дал келген жообуна 1 балл;
  - ✓ башка жоопторго 0 балл берилет.

Жалпы – 14 балл.

### 3. Таблицада баллдар “бааларга” айландырылган.

Баллдар	Баасы
0-4	2
5-8	3
9-11	4
12-14	5

### Критерий оценивания:

1. С №1 по №8 – правильный ответ каждого задания оценивается в 1 балл;
2. №2.1 и №2.2 – оценивается:
  - ✓ 3 балла - установлено правильное соответствие всех элементов;
  - ✓ 2 балла – установлено правильное соответствие трех элементов;
  - ✓ 1 балл - установлено правильное соответствие двух элементов;
  - ✓ 0 балл – все другие ответы.

Итого: 14 баллов.

### 3. В таблице предоставлен перевод баллов в “отметки”.

Баллы	Отметки
0-4	2
5-8	3
9-11	4
12-14	5