

№ 8. Экинчи дүйнөлүк согуш аяктагандан кийин СССРдин «Маршалдын планынан» баш тартуусунун себеби ... болгон.

- а) «үчүнчү дүйнөнүн» өлкөлөрүнөн жардам күтүү
  - б) Чыгыш Европа өлкөлөрүнүн жардамына үмүттөнүү
  - в) АКШга экономикалык жана саясий көз каранды болуп калуу коркунучу
  - г) Англия жана Франциянын жардамы менен экономиканы калыбына келтиребиз деп эсептөө
- Причина отказа СССР от принятия «плана Маршалла» после окончания Второй мировой войны .....
- а) ожидание помощи от стран «третьего мира»
  - б) надежда на помощь стран Восточной Европы
  - в) боязнь оказаться в экономической и политической зависимости от США
  - г) расчет на восстановление экономики с помощью Англии и Франции

№ 9. Эмне үчүн КПСС Югославияны катуу сындаган?

- а) Советтикин өздөштүрбөй социализмдин өз алдынча моделин иштеп чыккандыктан
  - б) Социалисттик идеядан толугу менен кол үзгөндүктөн
  - в) Варшава келишими уюмуна кирбей койгондуктан
  - г) НАТОго киргендиги үчүн
- Почему КПСС жестко критиковала Югославию?
- а) Выработала самостоятельную модель социализма, а не воспроизвела советскую
  - б) Полностью порвала с социалистической идеей
  - в) Не вступила в организацию Варшавского договора
  - г) Вступила в НАТО

№ 10. Социализмдин дүйнөлүк системасынын кризисинин жыйынтыгы кандай?

- а) Колониализмдин акыркы очогу жоюлду
  - б) Реформалар, «баркыт» революциялары, Варшава Келишими Уюму жоюлду
  - в) Өнүгүп келе жаткан жана өнүккөн өлкөлөрдүн ортосундагы карама-каршылык курчуду
  - г) Азыркы учурдагы глобалдуу проблемалар күчөдү
- Каковы результаты кризиса мировой системы социализма?
- а) Ликвидация последних очагов колониализма
  - б) Реформы, «бархатные » революции, ликвидация Организации Варшавского Договора
  - в) Обострение противоречий между развитыми и развивающимися странами
  - г) Усложнение глобальных проблем современности

№ 11. 1970-жылдардын башында Советтер Союзунда экономиканы уюштуруунун жана башкаруунун негизин кандай принцип түзгөн?

- а) сөзсүз жана баарын камтыган пландуулук
  - б) базар экономикасы жана конкуренциянын жогору болушу
  - в) экономикада пландуулуктун жана эркин рыноктун артыкчылыктарын айкалыштыруу
  - г) ал мезгилде Советтер Союзунда «жапайы рынок» колдонулган
- Какой принцип лежал в основе организации и управления экономикой в Советском Союзе в начале 1970-х годов?
- а) безоговорочная и всеохватная плановость
  - б) рыночные отношения и высокая конкуренция
  - в) сочетание в экономике преимуществ плановости и свободного рынка
  - г) действие "дикого рынка", когда централизованные методы себя изжили, а рыночные механизмы еще не заработали

№ 12. ММКннан төмөнкү үзүндүнү окуп чыгып, андагы жазылган окуя кайсы жылы болгонун белгиле.

«Такталган маалымат булактарынын билдирүүсү боюнча СССРдин Президенти М.С.Горбачев «ден соолугунун абалынын начардыгына байланыштуу мамлекетти башкарууга жараксыз болуп» ӨКМК (Өзгөчө кырдаал боюнча мамлекеттик комитет) тарабынан 19-августтун түнүндө бийликтен алынып, азыр Крымдагы эс алуу үйүндө үй камагы абалында».

- а) 1990-ж.      б) 1991-ж.      в) 1992-ж.      г) 1993-ж.

Прочтите отрывок из сообщения СМИ и укажите год, когда происходили описываемые события:



«По сведениям из достоверных источников, президент СССР М.С.Горбачёв, отстранённый в ночь на 19 августа от власти ГКЧП «в связи с неспособностью управлять государством из-за состояния здоровья», находится сейчас под домашним арестом на даче в Крыму».

- а) 1990 г.      б) 1991 г.      в) 1992 г.      г) 1993 г.

№ 13. СССРдин биринчи жана акыркы президенти:

Первый и последний президент СССР:

- а) М. С. Горбачев      б) В. В. Путин      в) Б. П. Ельцин      г) Л.И. Брежнев



**2-бөлүм / Тест тапшырмалардын саны-2**  
**2 Часть / 2 тестовых задания**

*Бул бөлүм дал келүүлөрдү белгилей турган тапшырмалардан турат. Сол жакта берилген ар бир элементке оң жакта берилген элементтердин ичинен дал келгенин табыңыз (б.а. дал келген эки элементти туташтырыңыз). Бир тамганын тушуна бир эле сан жазылат.*

*Эта часть теста содержит задания на установление соответствия. Рядом с буквой элемента из левой колонки впишите цифру соответствующего элемента из правой колонки (т.е. соедините два соответствующих элемента в пару). Каждому элементу слева соответствует только один элемент справа. Один элемент из правой колонки лишний.*

**№ 2.1. Тарыхый окуяларды болгон мезгили менен дал келтиргиле:**

	Тарыхый окуя		Болгон мезгили
А	1992.3.III	1	КР гимн кабыл алган
Б	1992.18.XII	2	КР Конституция күнү
В	1993.5.V	3	КР туусун кабыл алган
Г	1994.14.I	4	КР гербин кабыл алган
		5	КР улуттук акчасын киргизген

**Установите соответствие между историческим событием и временным периодом:**

	Исторические события		Временной период
А	1992.3.III	1	был принят гимн КР
Б	1992.18.XII	2	день Конституции КР
В	1993.5.V	3	был принят флаг КР
Г	1994.14.I	4	был принят герб КР
		5	была введена национальная валюта КР

**Жообу/ Ответ:**

А	
Б	
В	
Г	

**№ 2.2. Өлкөнүн жетекчилерин алардын түзгөн концепцияларына дал келтиргиле:**



	Жетекчилер		концепциялар
А	М.С.Горбачев	1	коомдо саясий стабилдүүлүккө жетишүү
Б	Л.И.Брежнев	2	«жаңыча саясий ой жүгүртүү»
В	В.В.Путин	3	«өнүккөн социализм» концепциясы
Г	В.И.Ленин	4	дүйнөлүк революция идеясы
		5	«үч дүйнө»

**Установите соответствие между фамилиями руководителей страны и концепциями, которые они выдвигали:**

	Руководители		концепции
А	М.С.Горбачев	1	достижение политической стабильности в обществе
Б	Л.И.Брежнев	2	«новое политическое мышление»
В	В.В.Путин	3	концепция «развитого социализма»
Г	В.И.Ленин	4	идея мировой революции
		5	«трёх миров»

**Жообу/ Ответ:**

А	
Б	
В	
Г	



### Баалоо критерийи:

1. №1-№13 – тапшырмалардын туура жообуна, ар бири үчүн – 1 баллдан берилет;
2. №2.1, № 2.2. – тапшырмалардын:
  - ✓ төрт туура дал келген жообуна 3 балл;
  - ✓ үч туура дал келген жообуна 2 балл;
  - ✓ эки туура дал келген жообуна 1 балл;
  - ✓ башка жоопторго 0 балл берилет.

Жалпы – 19 балл.

### 3. Таблицада баллдар “бааларга” айландырылган.

Баллдар	Баасы
0-6	2
7-11	3
12-16	4
17-19	5

### Критерий оценивания:

1. С №1 по №13 – правильный ответ каждого задания оценивается в 1 балл;
2. №2.1 и №2.2 – оценивается:
  - ✓ 3 балла - установлено правильное соответствие всех элементов;
  - ✓ 2 балла – установлено правильное соответствие трех элементов;
  - ✓ 1 балл - установлено правильное соответствие двух элементов;
  - ✓ 0 балл – все другие ответы.

Итого: 19 баллов

### 3. В таблице предоставлен перевод баллов в «отметки».

Баллы	Отметки
0-6	2
7-11	3
12-16	4
17-19	5